

Nome.....
Classificação

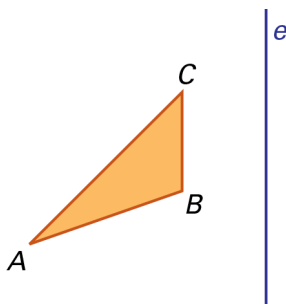
5º ano Turma..... nº.....
Prof.ª

Data/...../.....

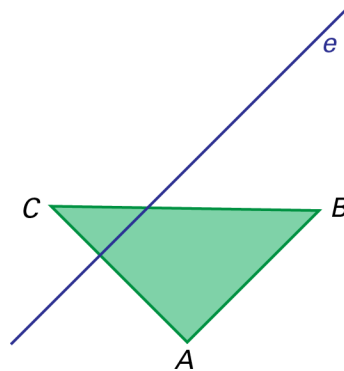
E.Educ.

1. Desenha o triângulo $[A'B'C']$ transformado do triângulo $[ABC]$ pela reflexão de eixo e .

1.1.

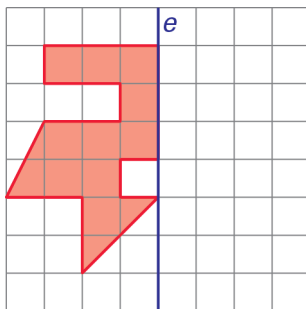


1.2.

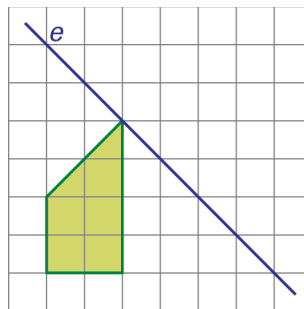


2. Completa as figuras seguintes, sabendo que o eixo e é eixo de reflexão da figura.

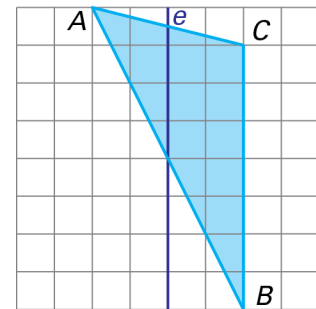
2.1.



2.2.



2.3.



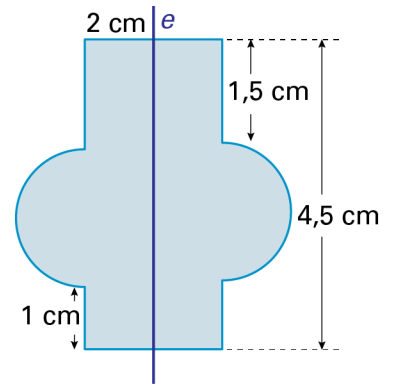
3. Na figura ao lado, a reta e é eixo de simetria da figura.

A figura é formada por um retângulo ao qual foram acrescentados dois semicírculos.

Determina a área da figura.

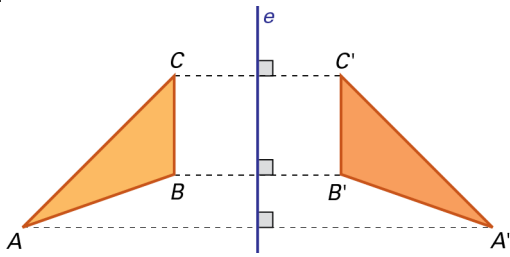
Considera 3,1416 para valor aproximado de π .

Apresenta a resposta com aproximação às décimas do centímetro quadrado.

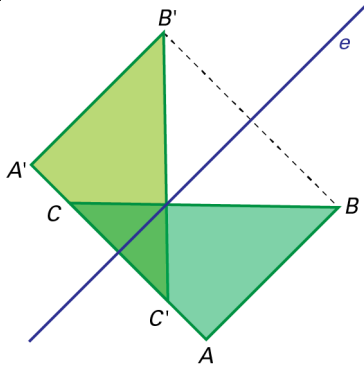


Soluções:

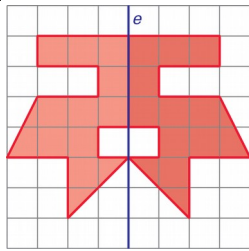
1.1.



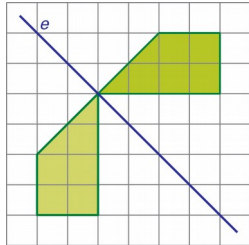
1.2.



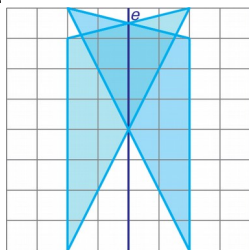
2.1.



2.2.



2.3.



3. 21,1 cm²